

Concurso Público para provimento dos cargos efetivos da Câmara
Municipal de Caldas Novas – GO

JARDINEIRO

CADERNO DE QUESTÕES

03/03/2024

DISCIPLINA	QUESTÕES
Língua Portuguesa	01 a 20
Matemática	21 a 40
Atualidades e História, Geografia e Conhecimentos Gerais de Goiás e de Caldas Novas	41 a 60

SOMENTE ABRA ESTE CADERNO QUANDO AUTORIZADO

LEIA ATENTAMENTE AS INSTRUÇÕES

Atenção: Transcreva no espaço designado da sua FICHA DE IDENTIFICAÇÃO, com sua caligrafia usual, considerando as letras maiúsculas e minúsculas, a seguinte frase:

A última folha da árvore caiu, anunciando o inverno.

1. Quando for autorizado abrir o caderno de questões, verifique se ele está completo ou se apresenta imperfeições gráficas que possam gerar dúvidas. Se isso ocorrer, solicite outro exemplar ao(a) fiscal de sala.
2. Este caderno é composto por questões de múltipla escolha. Cada questão apresenta cinco alternativas de respostas, das quais apenas uma é a correta.
3. O cartão-resposta é personalizado e não será substituído em caso de erro no preenchimento. Ao recebê-lo, confira se seus dados estão impressos corretamente. Se houver erro de impressão, notifique o(a) fiscal de sala.
4. Preencha, integralmente, um alvéolo por questão, utilizando caneta de tinta AZUL ou PRETA, fabricada em material transparente. A questão deixada em branco, com rasura ou com marcação dupla terá pontuação ZERO.

CONCURSO PÚBLICO

Leia o Texto 1 para responder às questões de 01 a 03.

Texto 1

Governo de SP faz mobilização contra dengue, zika vírus e chikungunya em 1º de março

São Paulo, 24/02/24

O governo de São Paulo pretende fazer uma mobilização contra arboviroses como dengue, zika vírus e chikungunya no próximo dia 1º de março, realizando ações de combate a mosquitos transmissores, além de orientação da população nos 645 municípios do Estado.

A iniciativa, chamada de “Dia D de Mobilização Estadual”, foi definida durante reunião de ontem, 23, no Centro de Operações de Emergências (COE), e contou com participação da Secretaria Estadual da Saúde, Defesa Civil, Secretaria da Educação e do Exército.

Entre as ações, haverá iniciativas especiais em escolas, com o apoio das secretarias da Educação e da Saúde, além de mobilização de equipes para atendimento da população com ações em residências para eliminação de mosquitos.

Antes disso, o COE do Estado de São Paulo já pretende intensificar ações para combater as arboviroses a partir desta segunda-feira, 26, e contará com o apoio do Exército para ações de limpeza urbana e orientação da população. Também está prevista a criação do portal “Dengue100Dúvidas”, com 100 questionamentos mais comuns entre a população sobre dengue, zika e chikungunya, e com respostas dos profissionais de saúde. A plataforma estará disponível a toda a população de forma online a partir da próxima semana.

Segundo o governo estadual, o efetivo de profissionais que atuará nessa operação será definido de acordo com a necessidade e situação epidemiológica de cada município, e todos os profissionais receberão tratamento da Secretaria da Saúde.

Uol. Disponível em: <<https://noticias.uol.com.br/ultimas-noticias/agencia-estado/2024/02/24/governo-de-sp-faz-mobilizacao-contradengue-zika-virus-e-chikungunya-em-1-de-marco.htm>>. Acesso em: 24 fev. 2024. [Adaptado].

QUESTÃO 01

De acordo com o texto, no dia 1º de março, o governo de São Paulo pretende realizar uma mobilização contra algumas arboviroses. Tal mobilização envolve

- (A) consulta à população sobre suas dúvidas e vacinação de idosos em suas residências.
- (B) limpeza urbana e orientação de crianças e adolescentes nas escolas e em suas residências.
- (C) iniciativas especiais em escolas e atendimento da população com ações em residências.
- (D) vacinação de idosos em suas residências e iniciativas especiais em escolas.
- (E) iniciativas especiais em escolas e asilos e orientação de pais e alunos em igrejas.

QUESTÃO 02

O texto informa que, a partir do dia 26 de fevereiro, o Centro de Operações de Emergências (COE) pretende intensificar ações de combate às arboviroses. Tais ações são:

- (A) a limpeza urbana pelo Exército, a visita a residências e a consulta à população.
- (B) a limpeza urbana, a orientação da população e a criação do portal “Dengue100Dúvidas”.
- (C) a orientação da população, a vacinação de crianças e adultos e a criação do portal “Dengue100Dúvidas”.
- (D) o tratamento dos profissionais pela Secretaria de Saúde e a criação do portal “Dengue100Dúvidas”.
- (E) o tratamento dos profissionais pela Secretaria de Saúde e a limpeza urbana pelo Exército.

QUESTÃO 03

No trecho “Segundo o governo estadual, o efetivo de profissionais que atuará nessa operação”, o verbo destacado está conjugado no

- (A) futuro do pretérito do modo indicativo.
- (B) pretérito perfeito do modo indicativo.
- (C) presente do modo indicativo.
- (D) futuro do presente do modo indicativo.
- (E) futuro do modo subjuntivo.

Leia o Texto 2 para responder às questões 04 e 05.

Texto 2



Disponível em: <<https://revistagalileu.globo.com/Cultura/noticia/2020/09/7-tirinhas-de-mafalda-para-refletir-sobre-os-tempos-atuais.html>>. Acesso em: 24 fev. 2024.

QUESTÃO 04

No segundo quadro da tirinha, a personagem afirma que, com um movimento do dedo indicador,

- (A) um patrão pode apontar para seus funcionários.
- (B) um patrão pode elogiar muitos funcionários.
- (C) os funcionários são escolhidos por um patrão.
- (D) os funcionários são maltratados por seu patrão.
- (E) um patrão pode demitir muitos funcionários.

QUESTÃO 05

A pontuação utilizada no primeiro quadro da tirinha indica uma

- (A) ordem.
- (B) interrogação.
- (C) exclamação.
- (D) dúvida.
- (E) negação.

QUESTÃO 06

Leia o texto a seguir.



Disponível em: <<https://www.instagram.com/camaradecaldas>>. Acesso em: 24 fev. 2024.

No trecho “Aqui você tem voz!”, a palavra “voz” está empregada no sentido

- (A) figurado.
- (B) próprio.
- (C) natural.
- (D) literal.
- (E) objetivo.

Leia o Texto 3 para responder às questões de 07 a 09.

Texto 3**Um pé de milho**

Os americanos, através do radar, entraram em contato com a Lua, o que não deixa de ser emocionante. Mas o fato mais importante da semana aconteceu com o meu pé de milho. Aconteceu que, no meu quintal, em um monte de terra trazida pelo jardineiro, nasceu alguma coisa que podia ser um pé de capim – mas descobri que era um pé de milho. Transplantei-o para o exíguo canteiro da casa. Secaram as pequenas folhas; pensei que fosse morrer. Mas ele reagiu. Quando estava do tamanho de um palmo, veio um amigo e declarou desdenhosamente que aquilo era capim. Quando estava com dois palmos, veio um outro amigo e afirmou que era cana. [...]

Anteontem aconteceu o que era inevitável, mas que nos encantou como se fosse inesperado: meu pé de milho pendoou. Há muitas flores lindas no mundo, e a flor de milho não será a mais linda. Mas aquele pendão firme, vertical, beijado pelo vento do mar, veio enriquecer nosso canteirinho vulgar com uma força e uma alegria que me fazem bem. É alguma coisa que se afirma com ímpeto e certeza. Meu pé de milho é um belo gesto da terra. Eu não sou mais um medíocre homem que vive atrás de uma chata máquina de escrever: sou um rico lavrador da rua Júlio de Castilhos.

BRAGA, Rubem. *Um pé de milho*. Rio de Janeiro: José Olympio, 1948. Disponível em: <<https://cronicabrasileira.org.br/cronicas/16138/um-pe-de-milho>>. Acesso em: 25 fev. 2023.

QUESTÃO 07

O autor do texto está

- (A) desencantado porque os americanos entraram em contato com a Lua.
- (B) triste porque o seu pé de milho não se desenvolveu.
- (C) triste porque seus amigos disseram que aquela planta iria morrer.
- (D) feliz porque seu pé de milho pendoou e enriqueceu o seu canteirinho.
- (E) feliz por ser um escritor que mora na rua Júlio de Castilhos.

QUESTÃO 08

No trecho “Mas aquele pendão firme, vertical, beijado pelo vento do mar, veio enriquecer nosso canteirinho vulgar”, um sinônimo para a palavra destacada é

- (A) engrandecer.
- (B) empobrecer.
- (C) arruinar.
- (D) enxovalhar.
- (E) sujar.

QUESTÃO 09

No trecho “sou um rico lavrador da rua Júlio de Castilhos”, por que se emprega letra maiúscula no início das palavras destacadas?

- (A) Porque são palavras criadas pelo autor.
- (B) Porque estão no início da frase.
- (C) Porque estão no título do texto.
- (D) Porque são nomes próprios.
- (E) Porque estão no final da frase.

Leia o Texto 4 para responder às questões 10 e 11.

Texto 4



AS MELHORIAS QUE VALORIZAM CALDAS NOVAS.



Disponível em: <<https://caldasnovas.go.leg.br/>>. Acesso em: 25 fev. 2024.

QUESTÃO 10

De acordo com o texto, algumas das melhorias que valorizam a cidade de Caldas Novas são:

- (A) educação, segurança e iluminação pública.
- (B) educação, transporte público e segurança.
- (C) educação, arte e lixo nas ruas.
- (D) saúde, arte e futebol.
- (E) saúde, segurança e esgoto a céu aberto.

QUESTÃO 11

Na frase “As melhorias que valorizam Caldas Novas”, o verbo “valorizar” está no

- (A) singular e não concorda com “melhorias”.
- (B) singular e concorda com a palavra “que”.
- (C) singular e concorda com “melhorias”.
- (D) plural e concorda com “Caldas Novas”.
- (E) plural e concorda com “melhorias”.

Leia o Texto 5 para responder às questões de 12 a 14.

Texto 5

Cientistas encontram fóssil de “dragão” chinês de 240 milhões de anos

Pesquisadores descobriram o fóssil de um “dragão” chinês. O animal de 240 milhões de anos pertence à espécie *Dinocephalosaurus orientalis*, um réptil que usava seu longo pescoço para pegar presas em águas rasas durante o período Triássico, cerca de 252 milhões a 201 milhões de anos atrás. A espécie foi encontrada pela primeira vez em depósitos de calcário no sul da China, em 2003, mas os cientistas agora juntaram os restos mortais para reconstruir, pela primeira vez, a extensão total de 5 metros do animal. A descoberta foi publicada na revista *Earth and Environmental Science: Transactions of the Royal Society of Edinburgh*.

Correio Braziliense. Disponível em: <<https://www.instagram.com/p/C3wFISaOMBd/>>. Acesso em: 25 fev. 2024. [Adaptado].

QUESTÃO 12

De acordo com o texto, são características do fóssil do animal encontrado pelos pesquisadores:

- (A) idade de 20 anos, pescoço longo e corpo de cinco metros de tamanho.
- (B) idade de 20 milhões de anos, pescoço longo e corpo de cinco metros de tamanho.
- (C) idade de 240 milhões de anos, pescoço longo e corpo de cinco metros de tamanho.
- (D) idade de 240 milhões de anos, pescoço de cinco metros e corpo pequeno.
- (E) idade de 240 milhões de anos, corpo de cinco metros de tamanho e ausência de pescoço.

QUESTÃO 13

No trecho “um réptil que usava seu longo pescoço para pegar presas em águas rasas”, os antônimos das palavras destacadas são, respectivamente,

- (A) “curto” e “largas”.
- (B) “curto” e “profundas”.
- (C) “curto” e “pequenas”.
- (D) “feio” e “altas”.
- (E) “feio” e “profundas”.

QUESTÃO 14

No título do texto, as aspas foram empregadas porque

- (A) dragão não é um animal do mundo real.
- (B) dragão é uma palavra inventada pelo autor do texto.
- (C) dragões já foram encontrados no Brasil.
- (D) dragões viveram no período Triássico.
- (E) dragões existiram há 240 milhões de anos.

Leia o Texto 6 para responder às questões 15 e 16.

Texto 6

Disponível em: <<https://bem-me-quer.tumblr.com/post/19795147332/deposito-de-tirinhas-calvin-e-haroldo>>. Acesso em: 25 fev. 2024.

QUESTÃO 15

Na tirinha, o tigre faz ao menino

- (A) um elogio.
- (B) um enaltecimento.
- (C) uma pergunta.
- (D) um louvor.
- (E) uma crítica.

QUESTÃO 16

No segundo quadro da tirinha, a palavra “zoológicos” leva acento porque

- (A) as oxítonas terminadas em “o” são acentuadas.
- (B) as paroxítonas terminadas em “o” são acentuadas.
- (C) todas as proparoxítonas são acentuadas.
- (D) as paroxítonas homógrafas são acentuadas.
- (E) todas as paroxítonas são acentuadas.

Leia o Texto 7 para responder às questões 17 e 18.

Texto 7

Sempre que eu contrariava Luzia desobedecendo a suas ordens, contestando quase tudo com respostas agressivas, ela me dizia que eu era tão ruim que minha vinda ao mundo pôs um fim à vida da mãe. “Deu fim à nossa mãe” era a sentença cruel, lançada para me atingir e evocar as complicações que se seguiram ao meu nascimento. [...]

VIEIRA JÚNIOR, Itamar. *Salvar o fogo*. São Paulo: Todavia, 2023.

QUESTÃO 17

No texto, as palavras “agressivas”, “ruim” e “cruel” são exemplos de

- (A) substantivos.
- (B) adjetivos.
- (C) advérbios.
- (D) conjunções.
- (E) preposições.

QUESTÃO 18

No trecho “contestando quase tudo com respostas agressivas”, a expressão destacada é um caso de

- (A) concordância verbal.
- (B) regência verbal.
- (C) regência nominal.
- (D) concordância nominal.
- (E) regência verbo-nominal.

Leia o Texto 8 para responder às questões **19** e **20**.

Texto 8**Amar dói amar**

Cansei de amar,
quero ser amado.
Não quero estar no mapa,
quero ser encontrado.

Se o coração está seco
de nada adianta beijo molhado.
Grande coisa um belo olhar
se você não é notado.

[...]

VAZ, Sérgio. *Flores de alvenaria*. São Paulo: Global, 2016.

QUESTÃO 19

No trecho “Grande coisa um belo olhar/ se você não é notado”, qual palavra poderia substituir o termo destacado sem mudar o sentido da frase?

- (A) Visto.
- (B) Falado.
- (C) Relegado.
- (D) Apontado.
- (E) Deixado.

QUESTÃO 20

No título do texto, a palavra “dói” é acentuada porque trata-se de uma

- (A) proparoxítona terminada em “i”.
- (B) paroxítona terminada em “i”.
- (C) monossílaba terminada em “i”.
- (D) paroxítona terminada em ditongo aberto.
- (E) monossílaba terminada em ditongo aberto.

RASCUNHO

QUESTÃO 21

Dentre os números 11, 201, 190, 5.103 e 9.081, quantos têm o algarismo 1 ocupando a ordem das dezenas?

- (A) 1.
- (B) 2.
- (C) 3.
- (D) 4.
- (E) 5.

QUESTÃO 22

A qual intervalo pertence o número $x = \pi + 2\sqrt{2} - 1$?

- (A) $1 < x < 2$
- (B) $2 < x < 3$
- (C) $3 < x < 4$
- (D) $4 < x < 5$
- (E) $5 < x < 6$

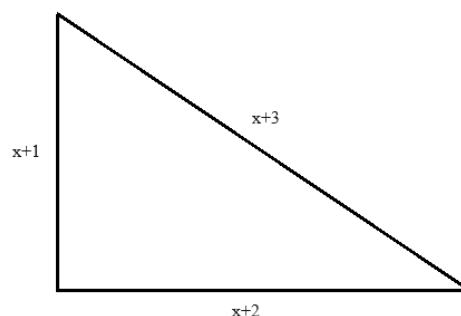
QUESTÃO 23

Segundo a Associação Regional das Águas Quentes de Goiás (AQUA), o nível de cloro nas piscinas deve estar entre 0,8 e 3,0 mg/l de água. Se em uma piscina cujo volume é de 31.500 litros há 72.450 mg de cloro, qual foi a dosagem de cloro utilizada por litro?

- (A) 2,2 mg.
- (B) 2,3 mg.
- (C) 2,4 mg.
- (D) 2,5 mg.
- (E) 2,6 mg.

RASCUNHO**QUESTÃO 24**

O perímetro de um triângulo é a soma das medidas dos seus lados. Se o perímetro do triângulo a seguir vale 12 cm, quanto vale sua hipotenusa?



- (A) $\sqrt{2}$.
- (B) $\sqrt{3}$.
- (C) 3.
- (D) 4.
- (E) 5.

QUESTÃO 25

Um número é formado pelos algarismos a e b , sendo a o algarismo das dezenas e b o das unidades. Se $a+b=9$ e $2a+b=16$, quem é o número $4ba$?

- (A) 412.
- (B) 417.
- (C) 427.
- (D) 472.
- (E) 492.

QUESTÃO 26

Os preços dos ingressos para uma partida de futebol custam R\$ 40,00 a inteira e R\$ 20,00 a meia-entrada. Seis torcedores gastaram no total R\$ 200,00. Se cada um deles comprou exatamente um ingresso, quantos ingressos de cada tipo foram comprados?

- (A) Uma inteira e cinco meias-entradas.
- (B) Duas inteiras e quatro meias-entradas.
- (C) Três inteiras e três meias-entradas.
- (D) Quatro inteiras e duas meias-entradas.
- (E) Cinco inteiras e uma meia-entrada.

QUESTÃO 27

Assim como o ouro, a prata também pode ser classificada de acordo com seu grau de pureza. A prata esterlina é composta por 92,5% de prata pura e 7,5% de outros metais e a prata de lei é composta por 80,0% de prata pura e 20,0% de outros metais. Uma pessoa possui dois anéis de prata, um de prata esterlina pesando 5 g e outro de prata de lei pesando 3,5 g. Quantos gramas de prata pura, aproximadamente, há nesses dois anéis?

- (A) 7,0 g.
- (B) 7,2 g.
- (C) 7,4 g.
- (D) 7,6 g.
- (E) 7,8 g.

QUESTÃO 28

Considere a situação a seguir.

Uma pessoa comprou um computador pela internet e no dia seguinte recebeu a notificação de que o produto havia sido separado e que seria enviado para sua cidade. Quando $\frac{1}{3}$ do prazo previsto para a entrega findou, o comprador foi notificado sobre a saída do produto para ser entregue. No dia seguinte a essa notícia, o produto chegou.

Se a pessoa teve que esperar apenas oito dias para receber o produto, qual era o prazo previsto divulgado pela empresa?

- (A) 12 dias.
- (B) 15 dias.
- (C) 18 dias.
- (D) 21 dias.
- (E) 24 dias.

QUESTÃO 29

Quanto vale 7% de 2% de 1%?

- (A) 0,0014%.
- (B) 0,014%.
- (C) 0,14%.
- (D) 1,4%.
- (E) 14,0%.

QUESTÃO 30

Dois irmãos nadadores possuem muitas medalhas. A quantidade de medalhas do irmão mais velho mais três é igual ao triplo de medalhas do irmão mais novo menos duas. Se o irmão mais novo possui 10 medalhas, quantas medalhas eles possuem juntos?

- (A) 32.
- (B) 33.
- (C) 34.
- (D) 35.
- (E) 36.

QUESTÃO 31

Os times do Campeonato Brasileiro de 2023 foram agrupados de acordo com a região do Brasil à qual pertencem e o número de gols marcados por cada um desses times foi acrescentado na sua respectiva região, conforme tabela a seguir.

Região	Gols marcados
Sudeste	574
Sul	201
Nordeste	95
Centro-Oeste	76

Nesse caso, as regiões Nordeste e Centro-Oeste foram responsáveis, aproximadamente, por qual porcentagem do total de gols?

- (A) 8,0%.
- (B) 10,0%.
- (C) 18,0%.
- (D) 21,2%.
- (E) 60,7%.

QUESTÃO 32

Sabe-se que em um evento para colecionadores de carros antigos havia 284 rodas e 178 pés. Qual a diferença entre o número de pessoas e o número de carros participantes do evento?

- (A) 10.
- (B) 12.
- (C) 14.
- (D) 16.
- (E) 18.

QUESTÃO 33

Qual é o valor de c na equação $x^2-9x+c=0$, de modo que uma raiz seja o dobro da outra?

- (A) 15.
- (B) 16.
- (C) 17.
- (D) 18.
- (E) 19.

QUESTÃO 34

Quando dois números irracionais são multiplicados, o resultado pode não ser um número irracional. Qual propriedade associada à multiplicação não vale nesse caso?

- (A) Comutativa.
- (B) Fechamento.
- (C) Associativa.
- (D) Existência do elemento oposto.
- (E) Existência do elemento neutro.

QUESTÃO 35

A relação candidato-vaga demonstra o quão concorrido um concurso é. Essa relação é obtida dividindo-se o total de inscritos pela quantidade de vagas disponíveis. Se para um determinado concurso a relação candidato-vaga foi de 31,6 e se havia 25 vagas, quantos candidatos se inscreveram nesse concurso?

- (A) 790.
- (B) 796.
- (C) 798.
- (D) 822.
- (E) 846.

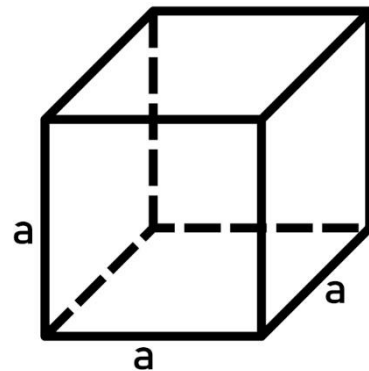
RASCUNHO**QUESTÃO 36**

A área de um retângulo é o produto entre sua base e sua altura. A área de um retângulo é igual a 143 cm^2 e a diferença entre as medidas do maior lado e do menor lado é igual a 2 cm. Se o perímetro de um retângulo é a soma das medidas dos seus lados, quanto vale o perímetro do retângulo em questão?

- (A) 24 cm.
- (B) 35 cm.
- (C) 37 cm.
- (D) 46 cm.
- (E) 48 cm.

QUESTÃO 37

O volume V_1 de um cubo como o da figura a seguir é dado pelo produto das medidas de suas arestas, isto é, $V_1=a^3$.

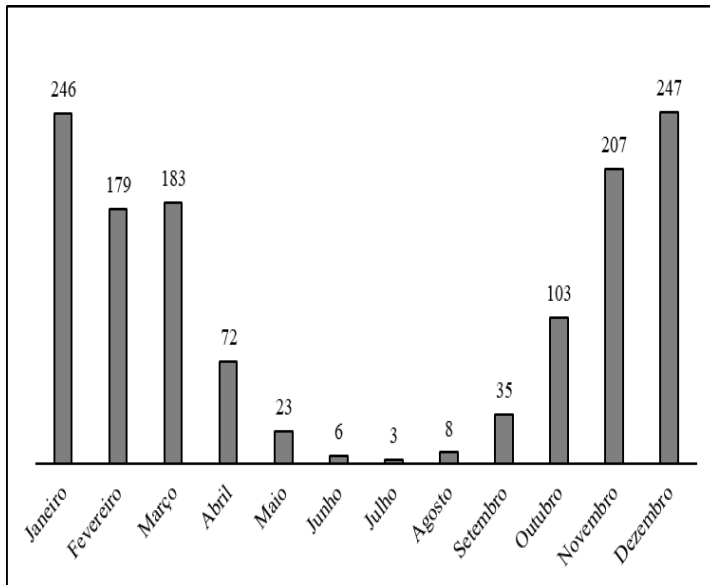


Considere que V_2 seja o volume de um cubo cujas arestas medem $a/2$. Sendo assim, a relação V_1/V_2 vale

- (A) 2.
- (B) 4.
- (C) 8.
- (D) 16.
- (E) 32.

QUESTÃO 38

Observe o gráfico a seguir.



A quantidade média de chuva, em mm, em Caldas Novas durante o ano é representada no gráfico acima. A partir da análise do gráfico, a diferença entre a quantidade média de chuva do segundo mês mais chuvoso e a quantidade média de chuva do segundo mês menos chuvoso é igual a

- (A) 240 mm.
- (B) 241 mm.
- (C) 242 mm.
- (D) 243 mm.
- (E) 244 mm.

QUESTÃO 39

Um número quando somado com o dobro do seu sucessor e com o triplo do seu antecessor é igual a 113. Qual é esse número?

- (A) 15.
- (B) 16.
- (C) 17.
- (D) 18.
- (E) 19.

QUESTÃO 40

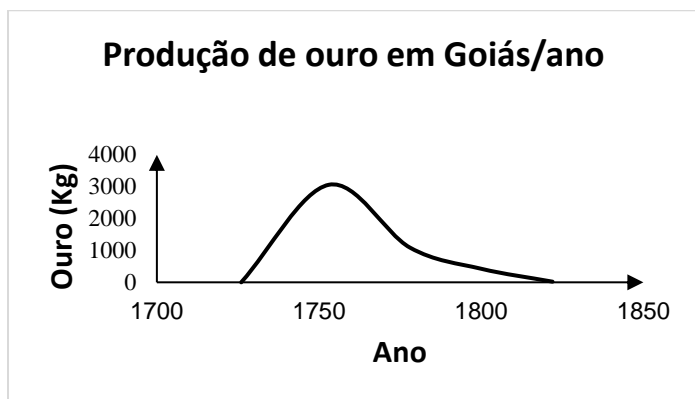
Um triângulo retângulo possui os catetos medindo 3 cm e 4 cm e hipotenusa medindo H . Se as medidas dos catetos dobrarem, qual será a relação da hipotenusa h desse novo triângulo e H ?

- (A) $h=(1,5)H$
- (B) $h=2H$
- (C) $h=(2,5)H$
- (D) $h=3H$
- (E) $h=(3,5)H$

RASCUNHO

QUESTÃO 41

Observe o gráfico a seguir.



PALACIN, L. G.; MORAES, M. A. Sant'Anna. O século do ouro em Goiás: 1722-1822, estrutura e conjuntura numa capitania de Minas. 6ª edição. Goiânia: Editora UCG, 1994.

Com base na análise da imagem e nos seus conhecimentos sobre a economia goiana no período da mineração, percebe-se que o gráfico demonstra

- (A) a estabilidade ao longo do tempo na produção de ouro.
- (B) a redução de produção na entrada do século XVIII.
- (C) o pico de produção ao longo do século XVII seguido de queda.
- (D) o perfil de exploração do ouro de aluvião.
- (E) o interesse da coroa nas primeiras décadas de exploração do ouro.

QUESTÃO 42

No período colonial em Goiás, os papéis sociais eram diversos. O nome dado aos proprietários de lavras e dos negros escravizados que nelas trabalhavam era

- (A) mineiro.
- (B) roceiro.
- (C) capitão-do-mato.
- (D) tropeiro.
- (E) posseiro.

QUESTÃO 43

A criação da Capitania de Goyaz se dá em

- (A) 1722, com a chegada do Anhanguera, que acha a primeira jazida de ouro em Goyaz e funda o Arraial de Santana.
- (B) 1778, quando tem início a decadência da mineração, havendo assim uma queda da população urbana devido à redução de pessoas pretas escravizadas.
- (C) 1749, quando o primeiro governador, Conde D'Arcos, cria duas casas de fundição, sendo uma delas em Vila Boa e a outra, em São Félix/Cavalcante.
- (D) 1744, pois a coroa portuguesa objetivou com isso aumentar o controle sobre a região mineradora.
- (E) 1726, quando D. Rodrigo César de Menezes manda o Anhanguera Filho de volta a Goiás, com o título de Superintendente das Minas, para iniciar o povoamento.

QUESTÃO 44

Observe a imagem a seguir.



Disponível em: <<https://www.jornalopcao.com.br/opcao-cultural/300-anos-da-bandeira-do-anhanguera-371215/>>. Acesso em: 27 fev. 2024.

O bandeirantismo foi um conjunto de ações empreendidas pelos habitantes da Capitania de São Vicente rumo ao interior do Brasil. A imagem se refere ao conhecido Anhanguera, que coordenou a expedição em 1722, cujo nome é

- (A) Domingos Jorge Velho.
- (B) Bartolomeu Bueno da Silva.
- (C) Wenceslau Gomes da Silva.
- (D) Matias Cardoso de Almeida.
- (E) Alferes Braga.

QUESTÃO 45

Goiânia tem sido o palco de um crescimento demográfico e de uma expansão urbana desde a sua fundação. Em 1950, a cidade já superava as expectativas demográficas da época da sua construção, ultrapassando a cifra dos 50.000 habitantes. Em 1980, a população da cidade já era estimada em cerca de 700.000 pessoas. Um dos efeitos socioespaciais dessa situação na cidade foi a

- (A) intensa periferação da capital, com a proliferação de loteamentos irregulares e clandestinos.
- (B) necessidade de rever o seu plano diretor para reordenar a dinâmica de ocupação urbana.
- (C) chegada de inúmeros imigrantes estrangeiros, gerando uma massa de pessoas em situação de rua nos semáforos.
- (D) rápida construção de uma rede viária para fortalecer a circulação urbana.
- (E) demanda por aeroportos para atender à dinâmica econômica dos moradores.

QUESTÃO 46

Os movimentos sociais são ações coletivas que visam lutar por alguma causa social. No final da década de 1970, quando as contradições do modelo agrícola se tornam intensas, ressurgem as ocupações de terra, quando centenas de agricultores ocupam as granjas Macali e Brillhante, no Rio Grande do Sul. A Encruzilhada Natalino se tornou símbolo de luta e resistência à ditadura militar, agregando em torno de si a sociedade civil, que exigia democracia. O movimento social que surgiu desse contexto foi o

- (A) MTST – Movimento dos Trabalhadores Sem-Teto.
- (B) MST – Movimentos dos Trabalhadores Rurais Sem Terra.
- (C) MI – Movimento Indígena.
- (D) MO – Movimento Operário.
- (E) MAB – Movimento dos Atingidos por Barragens.

QUESTÃO 47

Com 1.053.439 habitantes a mais do que em 2010, Goiás chegou a 7.056.495 de moradores, segundo dados do censo 2022 do IBGE. Entre os mais de 1 milhão e 53 mil novos habitantes no estado, 607 mil são das concentrações urbanas de Goiânia e de Brasília. A concentração urbana se define

- (A) pela concentração de serviços hospitalares existentes em determinado local, sendo atrativo para os moradores da região.
- (B) pela renda per capita da região metropolitana, que serve de atrativo para milhares de migrantes de outros estados e regiões.
- (C) pela desigualdade de ocupação dos espaços da cidade com vazios urbanos que favorecem a especulação imobiliária.
- (D) pelos níveis de empregabilidade no setor terciário da economia e concomitante enfraquecimento do setor primário.
- (E) pelos arranjos populacionais acima de 100 mil habitantes que têm a urbanização como principal processo indutor da integração dos municípios.

QUESTÃO 48

O parque Nacional da Chapada dos Veadeiros e a Basílica do Divino Pai Eterno são lugares em Goiás que atraem milhares de turistas todos os anos, dinamizando a economia goiana. Esses dois destinos são respectivamente exemplos de turismo

- (A) religioso e cultural.
- (B) cultural e rural.
- (C) ecológico e religioso.
- (D) hidrotermal e de negócios.
- (E) histórico e ecológico.

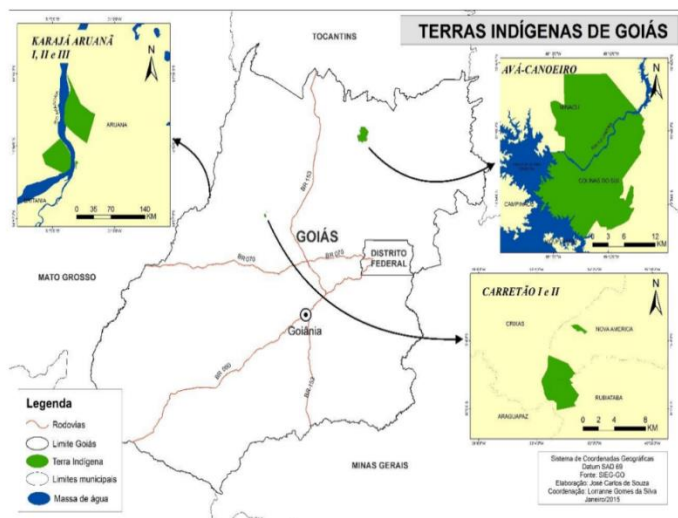
QUESTÃO 49

Goiás possui o maior território de descendentes quilombolas do Brasil reconhecido pela fundação Palmares e articulado com a Coordenação Nacional de Quilombos (CONAQ), além de outros órgãos nacionais e internacionais. Essa comunidade recebe o nome de

- (A) Piririca.
- (B) Cangume.
- (C) Pilões.
- (D) Kalunga.
- (E) Ivaporunduva.

QUESTÃO 50

Observe o mapa a seguir.



Fonte: SIEG/GO, 2015

Disponível em: < <https://sagresonline.com.br/saiba-onde-estao-localizados-os-povos-indigenas-em-goias/>>. Acesso em: 27 fev. 2024.

Os povos originários remanescentes em Goiás são formados por três etnias apresentadas no mapa. Ainda de acordo com o mapa, as microrregiões onde se localizam as terras indígenas dos Tapuios, Karajás e Avá-Canoéiros estão, respectivamente, nas mesorregiões

- (A) Sul goiano, Noroeste goiano e Sudeste goiano.
- (B) Norte goiano, Sul goiano e Centro goiano.
- (C) Noroeste goiano, Centro goiano e Sul goiano.
- (D) Sudeste goiano, Norte goiano e noroeste goiano.
- (E) Centro goiano, Noroeste goiano e Norte goiano.

QUESTÃO 51

As rodovias representam importante papel no processo de articulação espacial dos territórios. Em Goiás elas foram fundamentais para a integração do mercado nacional, além de influenciar na mobilidade da população e agir no crescimento da produção agropastoril, causando dinamização do mercado urbano na estrutura fundiária. A rodovia que tem papel importante nesses quesitos em Goiás é a

- (A) BR 101, com 4.500 km de extensão.
- (B) BR 153, com 4.355 km de extensão.
- (C) BR 364, com 4.309 km de extensão.
- (D) BR 163, com 4.000 km de extensão.
- (E) BR 174, com 2.888km de extensão.

QUESTÃO 52

Observe o mapa a seguir.



Disponível em: < <https://brasilecola.uol.com.br/brasil/as-regioes-geo-economicas-brasil.htm>>. Acesso em: 21 fev. 2023.

Dentre as muitas possibilidades de divisão regional, a divisão em regiões geoeconômicas integra estados com características em comum embora cada unidade apresente peculiaridades socioeconômicas. O município de Caldas Novas, em Goiás, se encontra na região

- (A) Amazônia.
- (B) Centro-sul.
- (C) Nordeste.
- (D) Nordeste.
- (E) Centro-Oeste.

QUESTÃO 53

O relevo é um conjunto de formas dispostas na superfície terrestre que ocorrem na litosfera do planeta. Considerando suas características, o relevo de Goiás possui

- (A) terrenos relativamente planos, com suaves ondulações, tendo as porções sul e leste as maiores altitudes, com destaque à Chapada dos Veadeiros.
- (B) planície fluvial extensa, com altitudes que variam de 100 a 200 metros acima do nível do mar.
- (C) unidades importantes com planícies costeiras e planaltos que circundam o sertão, com destaque para o planalto da Borborema.
- (D) planaltos (atlântico e meridional) que, em sua maior parte, se localizam ao norte da região, onde se pode encontrar uma formação vegetal de Mata de araucárias.
- (E) planaltos, predominantemente, divididos em setentrional, oriental e meridional.

QUESTÃO 54

Os rios desempenham um papel importante no desenvolvimento da sociedade humana, pois são fonte de água potável, além de proporcionar o equilíbrio dos ecossistemas de fauna e flora. Goiás tem grande importância hídrica para o Brasil. Os rios mais importantes de Goiás são

- (A) Amazonas, Tapajós, Tocantins, Xingu, Jari e Pará.
- (B) Acaraú, Bananuiú, Jaguaribe e Salgado.
- (C) Aporé, Araguaia, Paranaíba, Vermelho e Corumbá.
- (D) Tramandaí, Camaquã, Mirim, São Gonçalo e Mampituba.
- (E) Itapocu, Bigucu, Cubatão do Sul, Tubarão, Madre e Araranguá.

QUESTÃO 55

A criação de Parques Estaduais é uma forma jurídica de se estabelecer áreas de proteção ambiental, desempenhando importante papel na preservação de biomas como o Cerrado. Nos municípios Cidade de Goiás, Mossâmedes e Buriti, encontra-se o Parque Estadual

- (A) das Emas.
- (B) do Araguaia.
- (C) da Serra Dourada.
- (D) da Serra de Jaraguá.
- (E) de Paraúna.

QUESTÃO 56

A cultura de lugar possui várias formas de manifestação. Uma marca do Estado de Goiás são os festejos ligados às diversas religiosidades presentes nos povos cerradeiros. No período da Semana Santa, há as Cavalhadas, no município de

- (A) Trindade.
- (B) Corumbá.
- (C) Catalão.
- (D) Pirenópolis.
- (E) Cidade de Goiás.

QUESTÃO 57

O clima se define pela combinação entre temperatura e umidade de uma localidade ao longo do tempo, sendo influenciado por diversos fatores que atuam na atmosfera. A cidade de Caldas Novas, localizada numa região de Cerrado, possui o clima

- (A) Subtropical.
- (B) Tropical seco.
- (C) Tropical úmido ou subúmido.
- (D) Tropical de altitude.
- (E) Mediterrâneo.

QUESTÃO 58

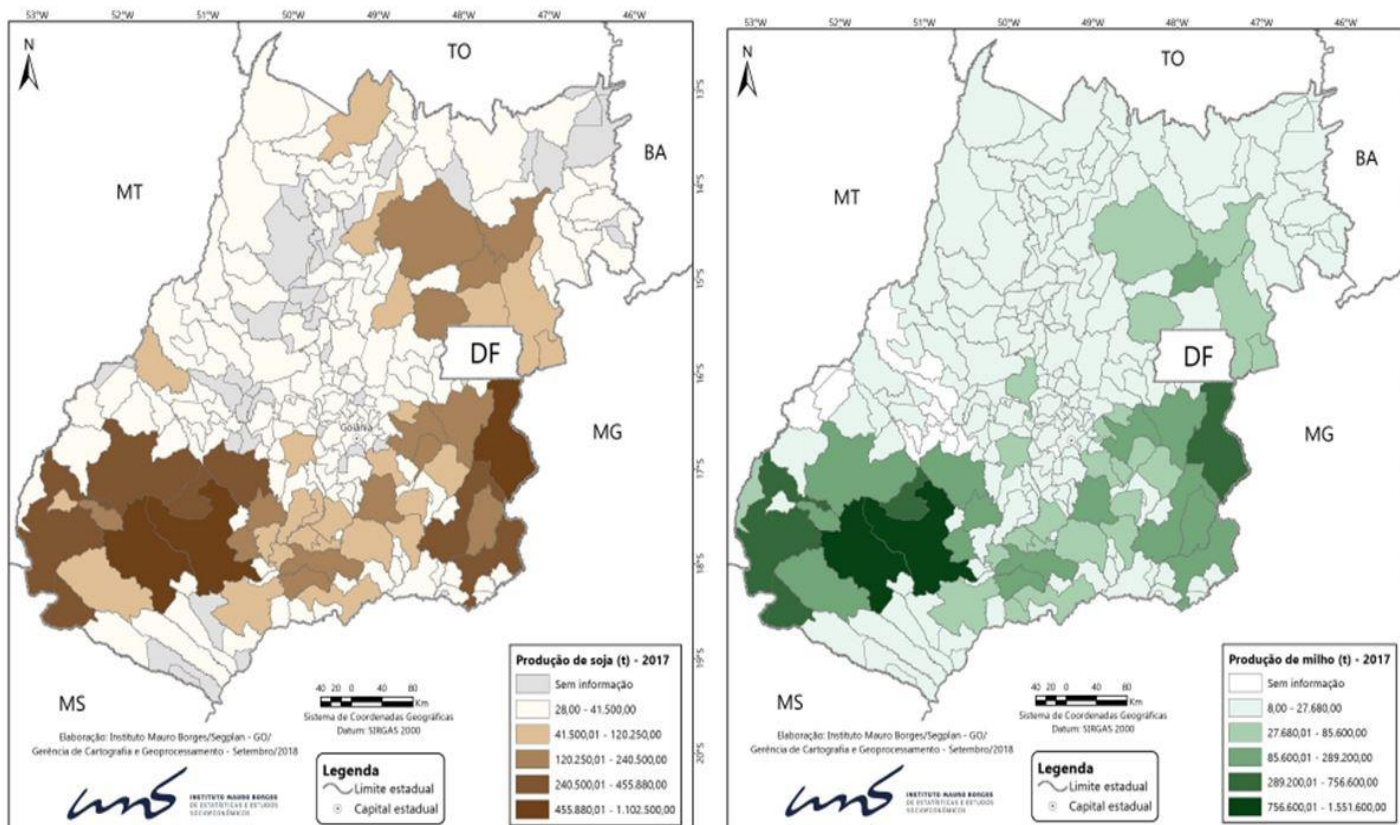
O processo de ocupação urbana do Brasil se caracterizou, de modo geral, pela falta de planejamento, causando impactos aos recursos naturais. Na cidade de Caldas Novas, rica em nascentes de corpos de água, percebe-se a interferência da ação antrópica impulsionada pelo turismo, sendo parte dessas consequências

- (A) a formação de ravinas e voçorocas.
- (B) o desemprego e a segregação espacial.
- (C) a violência urbana e a submoradia.
- (D) a desigualdade social e a concentração de renda.
- (E) o êxodo rural e as dificuldades de acesso a políticas públicas.

RASCUNHO

QUESTÃO 59

Observe o mapa a seguir.



Fonte: Elaboração cartográfica: Instituto Mauro Borges, Gerência de Cartografia e Geoprocessamento (set. 2018). Disponível em: <<https://journals.openedition.org/confins/34062>>. Acesso em: 24 fev. 2024.

A economia goiana é plural, embora seja muito forte na produção agrícola. Uma leitura da distribuição da produção de soja e milho demonstra certa concentração dessa produção no

- (A) Centro goiano.
- (B) Norte goiano.
- (C) Sudeste goiano.
- (D) Sudoeste goiano.
- (E) Noroeste goiano.

QUESTÃO 60

As redes urbanas são formadas pelos sistemas de cidades. Podem ser mais densas e articuladas, de acordo com os níveis de industrialização e concentração econômica, distribuição de recursos, geração de emprego, fluxos de pessoas e mercadorias. De acordo com a REGIC – Região de Influência de Cidades, Caldas Novas é uma

- (A) Metrópole regional.
- (B) Cidade local.
- (C) Cidade nacional.
- (D) Centro regional.
- (E) Capital sub-regional.