



Concurso Público para provimento dos cargos do quadro de pessoal da
Prefeitura Municipal de Itiquira - MT

MOTORISTA

23/10/2022

CADERNO DE QUESTÕES

DISCIPLINAS	QUESTÕES
Língua Portuguesa	01 a 10
Matemática	11 a 20
Atualidades e História, Geografia e Conhecimentos Gerais do Mato Grosso	21 a 30

SOMENTE ABRA ESTE CADERNO QUANDO AUTORIZADO

LEIA ATENTAMENTE AS INSTRUÇÕES

Atenção: Transcreva no espaço designado da sua FICHA DE IDENTIFICAÇÃO, com sua caligrafia usual, considerando as letras maiúsculas e minúsculas, a seguinte frase:

Um fim de mar colore os horizontes.

1. Quando for autorizado abrir o caderno de questões, verifique se ele está completo ou se apresenta imperfeições gráficas que possam gerar dúvidas. Se isso ocorrer, solicite outro exemplar ao fiscal de sala.
2. Este caderno é composto por questões de múltipla escolha. Cada questão apresenta quatro alternativas de respostas, das quais apenas **uma** é a correta.
3. O cartão-resposta é personalizado e não será substituído em caso de erro no preenchimento. Ao recebê-lo, confira se seus dados estão impressos corretamente. Se houver erro de impressão, notifique ao fiscal de sala.
4. Preencha, integralmente, um alvéolo por questão, utilizando caneta de tinta AZUL ou PRETA, fabricada em material transparente. A questão deixada em branco, com rasura ou com marcação dupla terá pontuação ZERO.

CONCURSO PÚBLICO

Leia o Texto I para responder às questões de **01 a 08**.

Texto I

Ele era um cachorrinho machucado por dentro e por fora, seu corpo coberto de feridas e sarnas, sua alma tensa e assustada. Fábio Rogério foi resgatado no dia 25 de dezembro de 2022 e por aqui ficou conhecido como o nosso milagre de Natal.

A cada dia dentro do nosso hospital veterinário uma nova comemoração. Suas feridas foram cicatrizando, seus pelos crescendo e seu corpo ficando forte e saudável. Fabinho fez grandes amizades dentro do canil com seus colegas peludos. Tio @jamescomportamentoanimal fez um lindo trabalho comportamental, apresentando formas de autoconfiança que ocuparam o espaço do medo que havia no coraçãozinho do Fábio Rogério.

Seu grande dia chegou! Ele foi adotado pela incrível família do @leaolobotv e hoje vive numa casa quentinha e cheia de amor e aconchego.

Com esse grande incentivo, convidamos todos vocês a conhecerem o nosso site de adoção. Abra o seu coração e conheça as histórias de superação da vida de cada um dos peludos que ainda aguardam o seu final feliz!

Disponível em: <institutoluisamell/instagram>. Acesso em: 25 dez. 2020.

QUESTÃO 01

O texto I está disponível em uma rede social. Seu objetivo é incentivar

- (A) a denúncia da população a respeito de animais em perigo.
- (B) o trabalho voluntário com animais abandonados.
- (C) o reconhecimento do trabalho de uma equipe de saúde animal.
- (D) a adoção de animais acolhidos por uma entidade protetora.

QUESTÃO 02

A frase que resume as condições gerais de saúde do animal ao ser resgatado é

- (A) "sua alma tensa e assustada".
- (B) "Suas feridas foram cicatrizando".
- (C) "Ele era um cachorrinho machucado por dentro e por fora".
- (D) "seu corpo coberto de feridas".

QUESTÃO 03

Chamar o cãozinho de milagre de Natal está relacionado à data de

- (A) seu nascimento.
- (B) seu resgate.
- (C) sua consulta.
- (D) sua adoção.

QUESTÃO 04

Um recurso linguístico que agrega ao texto leveza e simpatia à causa animal é

- (A) o emprego de um nome estrangeiro em "nosso site".
- (B) a referência ao cãozinho por um substantivo próprio.
- (C) a referência ao abrigo na primeira pessoa do plural.
- (D) o emprego do advérbio em "por aqui".

QUESTÃO 05

No conjunto de frases "Suas feridas foram cicatrizando, seus pelos crescendo e, seu corpo ficando forte e saudável", as vírgulas ajudam a construir a ideia de

- (A) negação.
- (B) dificuldade.
- (C) possibilidade.
- (D) evolução.

QUESTÃO 06

O pronome inicial do texto faz referência a

- (A) tio.
- (B) hospital veterinário.
- (C) Fábio Rogério.
- (D) canil.

QUESTÃO 07

Do primeiro ao penúltimo parágrafo, o recurso textual utilizado para envolver o leitor com o tema tratado foi


- (A) o relato da vida do cãozinho.
- (B) a voz do animal em primeira pessoa.
- (C) o uso do diálogo entre o leitor e o cãozinho.
- (D) a descrição dos ambientes de abandono e de proteção.

QUESTÃO 08

O uso de endereços de redes sociais, como @jamescomportamentoanimal e @leaolobotv, ao mesmo tempo que valoriza as ações das pessoas envolvidas,

- (A) promove o instituto de proteção animal.
- (B) divulga o seu trabalho e a sua imagem.
- (C) mostra suas vidas familiares.
- (D) traz uma cobrança ao poder público e aos governantes.

Leia o Texto II para responder às questões 09 e 10.

Texto II

Disponível em: <<https://www.hojemais.com.br/tres-lagoas/noticia/mais/charge-abandono>>. Acesso em: 06 set. 2022.

QUESTÃO 09

O texto denuncia e conscientiza a população a respeito de um grave problema social:

- (A) o abandono de animais domésticos.
- (B) a dificuldade de moradia da população.
- (C) a desobediência quanto à colocação de coleiras em animais soltos nas ruas.
- (D) a falta de identificação dos setores onde mais se encontram animais nas ruas.

QUESTÃO 10

A informação verbal que remete à causa do problema social denunciado é

- (A) a placa de aluguel no muro.
- (B) o caminhão de mudança ao fundo.
- (C) as casas colocadas lado a lado.
- (D) a pergunta feita pelo cãozinho.

RASCUNHO

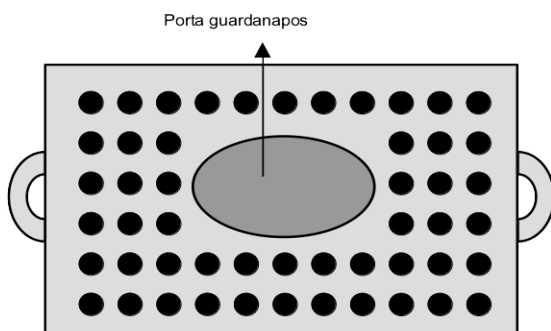
QUESTÃO 11

O terminal ferroviário de Itiquira-MT tem capacidade de movimentar 100 mil toneladas de grãos por dia. Sabendo que, em certo ano, o terminal movimentou cerca de 2,5 milhões de toneladas de grãos, quantos dias seriam necessários para movimentar essa quantidade, trabalhando com a quantidade diária máxima do terminal?

- (A) 25 dias.
 (B) 250 dias.
 (C) 365 dias.
 (D) 36 dias.

QUESTÃO 12

Em uma bandeja retangular, uma copeira distribuiu brigadeiros formando filas com a mesma quantidade desses doces em cada uma. Porém, ao sair para servir, ela retirou alguns brigadeiros da bandeja e, em seu lugar, inseriu um porta-guardanapos, como mostra a figura a seguir.



Quantos brigadeiros ela retirou da bandeja?

- (A) 66
 (B) 51
 (C) 35
 (D) 15

QUESTÃO 13

Leia o texto a seguir.

A Pesquisa Semanal da Cotação do Suíno, realizada pela Associação de Criadores de Suínos do Rio Grande do Sul, apontou que o preço da tonelada do farelo de soja ficou estável, sendo comercializado por R\$ 2.575,00.

Disponível em: <<https://www.suinoindustrail.com.br>>. Acesso em: 27 ago. 2022. (Adaptado).

Considerando as informações do texto, quanto custa um saco com 60 kg de farelo de soja?

- (A) R\$ 15,45.
 (B) R\$ 25,75.
 (C) R\$ 154,50.
 (D) R\$ 257,50.

QUESTÃO 14

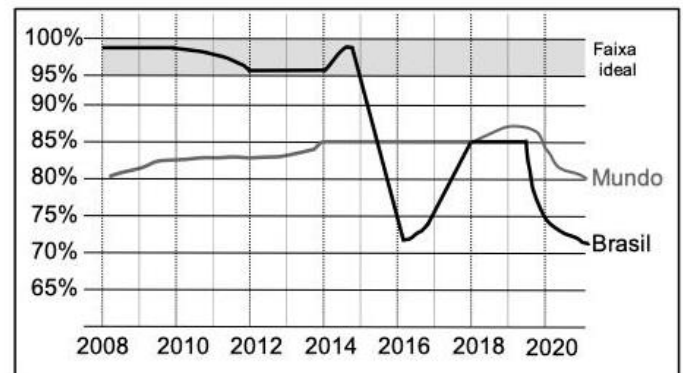
Procurando seguir as medidas de proteção contra a Covid-19, um homem comprou uma embalagem de um litro de álcool 70% para encher seus 5 borrifadores, cada um com capacidade de 150 mL. Depois de enchê-los completamente, ele percebeu que havia restado certa quantidade de álcool na embalagem. Com essa quantidade restante, ele ainda pode encher, aproximadamente, quantos borrifadores do mesmo tipo que o seu?

- (A) Quase 1 borrifador.
 (B) Mais do que 1, porém, menos do que 2 borrifadores.
 (C) Mais do que 2, porém, menos do que 3 borrifadores.
 (D) Quase 4 borrifadores.

Analise o Gráfico I, a seguir, para responder às questões 15 e 16.

Gráfico I

Cobertura vacinal contra a poliomielite (paralisia infantil) no Brasil, em porcentagem da população apta a vacinar



Disponível em: <<https://g1.globo.com/saude/noticia/2022/07/24/brasil-nao-atinge-metas-da-vacinacao-infantil-e-tem-taxas-abaxo-da-media-mundial-entenda-em-6-graficos.ghtml>>. Acesso em: 30 ago. 2022. (Adaptado).

QUESTÃO 15

Com base nas informações apresentadas no gráfico, em que ano o Brasil saiu da faixa ideal de imunização contra a poliomielite?

- (A) 2014
 (B) 2015
 (C) 2016
 (D) 2017


QUESTÃO 16

Com base nas informações apresentadas no gráfico, em que períodos o Brasil atingiu uma taxa de imunização contra a poliomielite inferior a 75%?

- (A) Entre 2016 e 2017 e depois de 2020.
- (B) Antes de 2015 e entre 2019 e 2020.
- (C) Entre 2014 e 2015 e entre 2018 e 2019.
- (D) Antes de 2014 e depois de 2018.


QUESTÃO 17

Quando encerrou o filme que foi exibido na sala de cinema da cidade, o relógio da praça marcava o horário indicado a seguir.

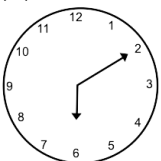


Sabendo que o filme teve duração de 2h e 15 min., qual figura apresenta o horário em que o filme teve início?

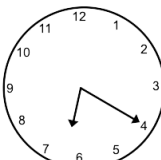
(A)



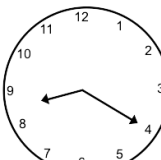
(B)



(C)



(D)

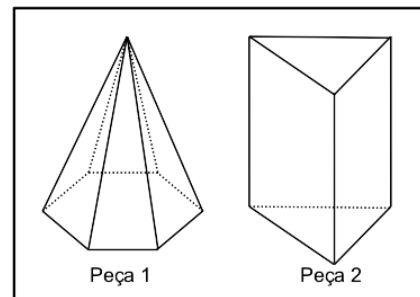
**QUESTÃO 18**

Certo medicamento deve ser ministrado 0,6 mg para cada 1,5 kg de massa corporal. Considerando que determinado paciente recebeu uma dose de 54 mg desse medicamento, qual a massa corporal desse paciente?

- (A) 21,6 kg
- (B) 54,0 kg
- (C) 101,0 kg
- (D) 135,0 kg

QUESTÃO 19

Uma criança brincava na areia usando duas peças de um jogo de montar, cada uma com o formato de um sólido geométrico, conforme a figura a seguir.



A brincadeira consistia em usar as peças como se fossem carimbos, marcando uma das faces do sólido na areia, formando, assim, uma figura plana. Em certo momento, usando as duas peças, uma de cada vez, a criança marcou na areia um mesmo tipo de figura plana. Qual é o nome dessa figura?

- (A) Triângulo.
- (B) Quadrilátero.
- (C) Pentágono.
- (D) Hexágono.

QUESTÃO 20

O quadro a seguir apresenta dados de quatro estados brasileiros com os maiores colégios eleitorais do país, com o percentual de eleitores que possuem em relação ao total eleitores brasileiros.

Estado	Porcentagem de eleitores do país
São Paulo (SP)	22,16%
Minas Gerais (MG)	10,41%
Rio de Janeiro (RJ)	8,2%
Bahia (BA)	7,22%

Disponível em: <<https://www.tsejus.br/eleitor/estatisticas-de-eleitorado/>>. Acesso em: 30 ago. 2022.

Considerando em conjunto os eleitores desses cinco estados, qual porcentagem eles representam em relação ao total de eleitores do Brasil?

- (A) 18,61%
- (B) 32,57%
- (C) 37,99%
- (D) 47,99%

RASCUNHO**RASCUNHO**

QUESTÃO 21

Observe a charge a seguir.



Disponível em: <<https://fotografia.folha.uol.com.br/charges>>. Acesso em: 02 set. 2022.

Nessa charge qual foi a crítica feita pelo autor?

- (A) A fome.
- (B) O racismo.
- (C) A corrupção.
- (D) O vitimismo.

QUESTÃO 22

Os biomas são o conjunto da vida vegetal e animal de um lugar. Quais são os biomas presentes no estado do Mato Grosso são: Cerrado, Pantanal e

- (A) Caatinga.
- (B) Amazônia.
- (C) Pampa.
- (D) Mata Atlântica.

QUESTÃO 23

Qual foi a principal mão de obra utilizada na mineração durante o Período Colonial em Mato Grosso?

- (A) A livre.
- (B) A estrangeira.
- (C) A assalariada.
- (D) A escravizada.

QUESTÃO 24

As pandemias de Covid-19 e de variola dos macacos têm como uma de suas causas um fenômeno econômico e político. Qual fenômeno é esse?

- (A) A fome.
- (B) A guerra.
- (C) A inflação.
- (D) A globalização.

QUESTÃO 25

Observe a charge a seguir.



Disponível em: <<http://www.arionaurocartuns.com.br/2016/09/charge-salada-agrototoxicos.html>>. Acesso em: 05 set. 2022.

A charge apresenta, de forma irônica, uma crítica a que?

- (A) Aos agrotóxicos.
- (B) Ao vegetarianismo.
- (C) À agricultura familiar.
- (D) Aos alimentos orgânicos.

QUESTÃO 26

O estado do Mato Grosso é conhecido como "celeiro do Brasil" porque sua principal atividade econômica é

- (A) a produção de calçados.
- (B) a confecção de vestuário.
- (C) a plantação de grãos.
- (D) o comércio de bebidas.

QUESTÃO 27

Durante a atual pandemia de Covid-19, o maior número de leitos para a internação de doentes foi apresentado por qual tipo de hospital?

- (A) Filantrópico.
- (B) Particular.
- (C) Militar.
- (D) Público.

QUESTÃO 28

A ocupação inicial do território onde atualmente está localizada a cidade de Itiquira-MT foi motivada por qual atividade econômica?

- (A) Comércio.
- (B) Garimpo.
- (C) Metalurgia.
- (D) Manufatura.

QUESTÃO 29

O estado do Mato Grosso foi palco de importantes batalhas do maior conflito armado da história do Brasil. Qual conflito foi esse?

- (A) A guerra dos Palmares.
- (B) A guerra da Cisplatina.
- (C) A guerra do Paraguai.
- (D) A guerra dos Farrapos.

QUESTÃO 30

Leia o texto a seguir.

O endividamento das famílias brasileiras bateu recorde e atingiu 79% dos lares do país em agosto, segundo dados da Pesquisa de Endividamento e Inadimplência do Consumidor.

Disponível em:

<https://www.nexojornal.com.br/extra/2022/09/05/Endividamento-bate-recorde-e-atinge-79-das-fam%C3%ADlias-do-pa%C3%ADs>. Acesso em: 06 set. 2022.

O endividamento mencionado no texto teve como causa:

- (A) Inflação alta.
- (B) Redução dos juros.
- (C) Geração de empregos formais.
- (D) Diminuição dos casos de Covid-19.